


# 算数の 力の 確認テスト



4年

# 算数の力確認テスト

## 1

# テスト 大きな数

別冊「解答」P.2~3でチェックしよう。

### 1 位取り

4

▶ 次の数について、数字で書かれたものは漢字で、漢字で書かれたものは数字で答えなさい。

① 38268025337 ( )

② 500020000000 ( )

③ 二十五兆六千億 ( )

④ 七十億五百万 ( )

### 2 整数のせいしつ

6

▶ 次の数を答えなさい。

① 50億を10倍した数 ( )

② 4兆を10でわった数 ( )

③ 3億に10をたした数 ( )

④ 1300億から10億をひいた数 ( )

⑤ 10億を2つと100万を4つと10万を8つあわせた数 ( )

⑥ 次の数の・がついた6と8の位

5 6 2 3 2 8 3 0 5 5 0 0

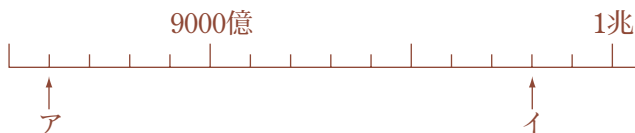
6 ( ) の位

8 ( ) の位

### 3 数直線

2

▶ 次の数直線上のア、イにあたる数を数字で答えなさい。



ア ( )

イ ( )

### 4 数の大きさ

2

▶ 次の2つの数のうち、大きい方を記号で答えなさい。

① ア 420760000 イ 421060000 ( )

② ア 1兆11億 イ 1兆9億 ( )

### 5 大きな数の計算

4

▶ 次の計算をして、数字で答えなさい。

① 36億 × 23万 ( )

② 5200 × 3800 ( )

③ 4000万 × 10 ( )

④ 30兆 ÷ 10 ( )

### 6 3けたをかける筆算

2

▶ 次の計算をしなさい。

①

$$\begin{array}{r} 535 \\ \times 613 \\ \hline \end{array}$$

②

$$\begin{array}{r} 429 \\ \times 208 \\ \hline \end{array}$$

# 算数の力確認テスト

## 1

# シート 大きな数

## 1-1 位取りシート

### 1 位取り

(1) 次の数を漢字で答えなさい。

①300000  
( )

②5002000  
( )

③82345020  
( )

④80200000000  
( )

⑤3000000000010  
( )

(3) 次の数を数字で答えなさい。

①2600万  
( )

②7億6500万  
( )

③40億6000万  
( )

④8兆9650億  
( )

⑤235兆6032億6500  
( )

(2) 次の数を数字で答えなさい。

①三百五十二万七千  
( )

②九千六百五十二万百  
( )

③二億六千四百七十二万五千  
( )

④五兆二千三百四十八万  
( )

⑤三百八十二億六千八百二万五千三百三十七  
( )



### 2 整数のせいしつ

(1) 次の数を答えなさい。

①8億を100倍した数  
( )

②2兆を10倍した数  
( )

③7500億を10倍した数  
( )

④600億を10でわった数  
( )

⑤4億を100でわった数  
( )

(2) 次の数を答えなさい。

①50億に1000をたした数  
( )

②100兆から10兆をひいた数  
( )

③1兆から1000億をひいた数  
( )

④10億を3つと1000万を2つと1万を4つあわせた数  
( )

⑤300億に100をたして200億ひいた数  
( )

(3) 次の数の・がついた数字の位を答えなさい。

①  $\overset{\cdot}{8}07\overset{\cdot}{9}31047$   
8 ( ) の位  
9 ( ) の位

②  $43\overset{\cdot}{5}0\overset{\cdot}{0}4732408$   
5 ( ) の位  
0 ( ) の位

③  $3\overset{\cdot}{1}5335\overset{\cdot}{4}3190\overset{\cdot}{3}81$   
1 ( ) の位  
4 ( ) の位  
3 ( ) の位

# 算数の力確認テスト

## 1

# シート 大きな数

1-3

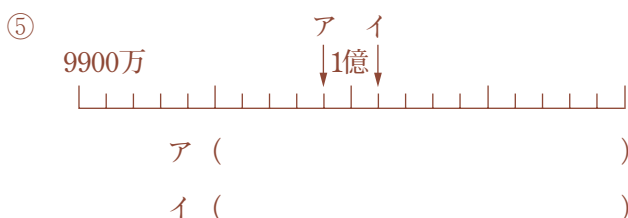
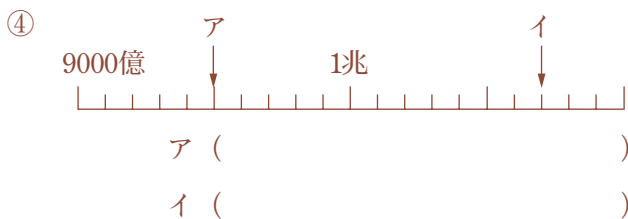
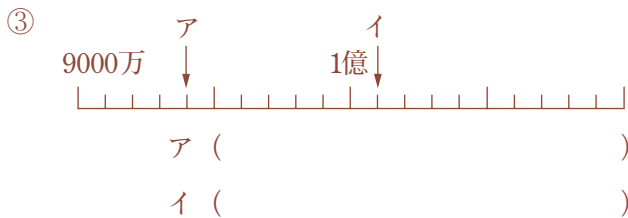
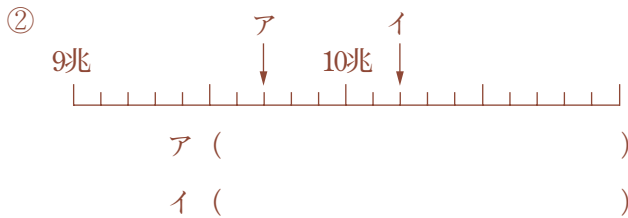
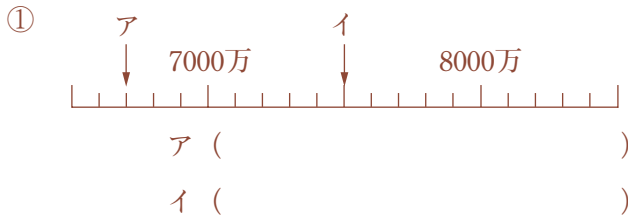
数直線シート

1-4

数の大きさシート

### 3 数直線

(1) 次の数直線上のア、イにあたる数を数字で答えなさい。



### 4 数の大きさ

(1) 次の2つの数のうち、大きい方を記号で答えなさい。

- ①ア 90000000                      イ 300000000 ( )
- ②ア 1303421000                      イ 989475000 ( )
- ③ア 4600099000                      イ 4600116000 ( )
- ④ア 62007477009                      イ 62011322002 ( )
- ⑤ア 87934657758215                      イ 8793465782150 ( )

(2) 次の2つの数のうち、大きい方を記号で答えなさい。

- ①ア 5億5000万                      イ 5億7000万 ( )
- ②ア 99億9000万                      イ 1兆1000万 ( )
- ③ア 7880兆                      イ 7879兆 ( )
- ④ア 三億五千五百万                      イ 三億二千八百万 ( )
- ⑤ア 二兆四千三百億  
イ 八千九百億九千九百万 ( )

## 5 大きな数の計算

(1) 次の計算をなさい。

①  $2000 \times 3200$  ( )

②  $4500 \times 2200$  ( )

③  $830000 \times 6600$  ( )

④  $72000000 \times 100$  ( )

⑤  $8250000 \div 10$  ( )

(2) 次の計算をなさい。

①  $2\text{億} \times 50$  ( )

②  $48\text{億} \times 13\text{万}$  ( )

③  $7\text{億}5000\text{万} \times 5\text{万}$  ( )

④  $2\text{兆} \div 10$  ( )

⑤  $7\text{億}5000\text{万} \div 10$  ( )

## 6 3けたをかける筆算

(1) 次の計算をなさい。

① 
$$\begin{array}{r} 382 \\ \times 564 \\ \hline \end{array}$$

② 
$$\begin{array}{r} 427 \\ \times 525 \\ \hline \end{array}$$

③ 
$$\begin{array}{r} 642 \\ \times 209 \\ \hline \end{array}$$

④ 
$$\begin{array}{r} 820 \\ \times 930 \\ \hline \end{array}$$

⑤ 
$$\begin{array}{r} 887 \\ \times 605 \\ \hline \end{array}$$